



Nombre del Alumno: Oscar Cancino Flores

Nombre del tema : EXCEL

Nombre de la Materia : Computo II

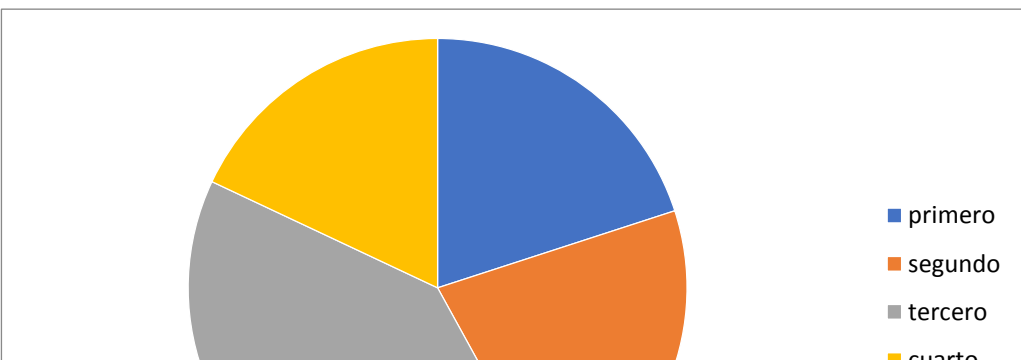
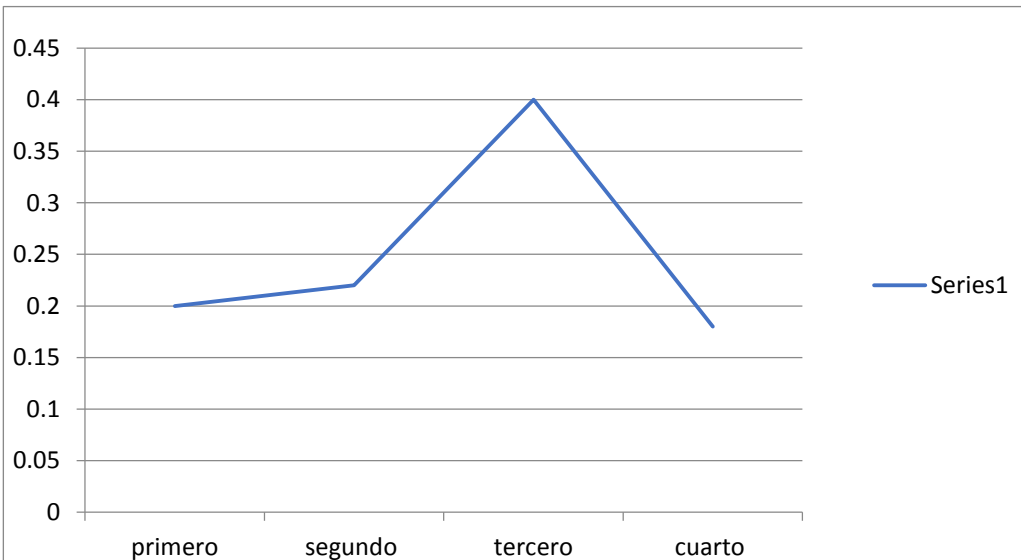
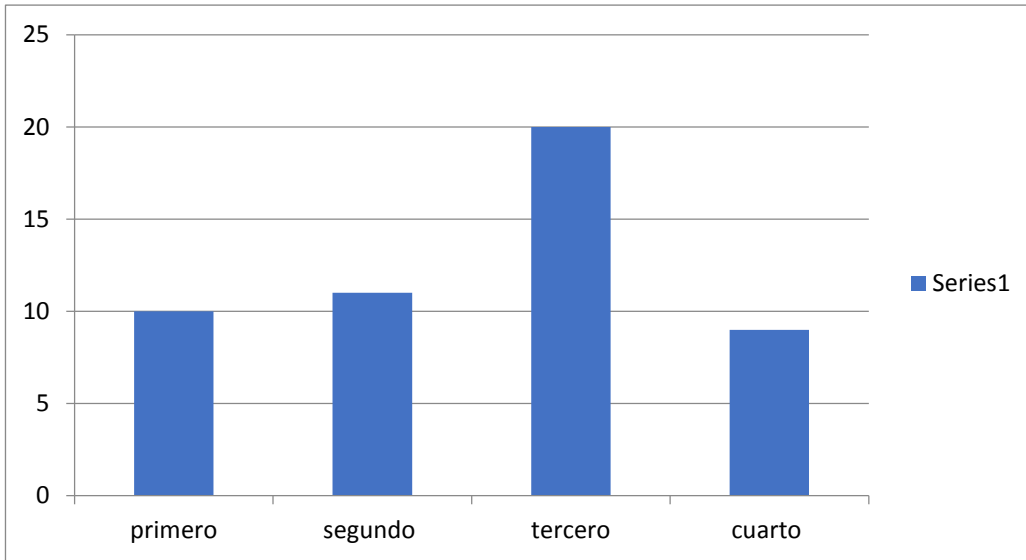
Nombre del profesor: Jorge Sebastian Dominguez Torres

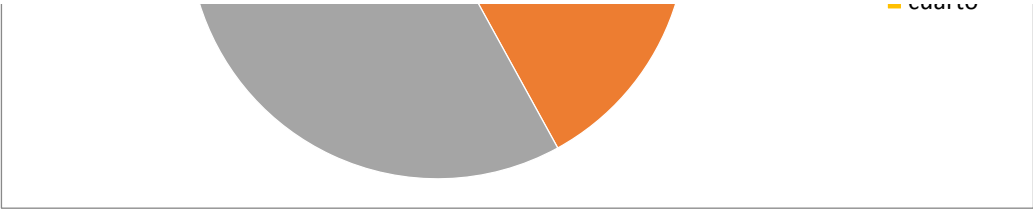
*Nombre de la Licenciatura: Administración Y Estrategias De
Negocios*

Cuatrimestre: 2

Unidad: 1

X	fi	Fi	fr	Fr	angulo	%
primero	10	10	0.2	0.2	72	20%
segundo	11	21	0.22	0.42	79.2	22%
tercero	20	41	0.4	0.82	144	40%
cuarto	9	50	0.18	1	64.8	18%
	50		1		360	100%





realizar una tabla de frecuencias en Excel bajo el siguiente planteamiento.

Número de jóvenes de nivel secundaria-preparatoria que presentan discalculia según el grado escolar en Comitán, los datos registrados fueron por grado de cada una de las secundarias y preparatorias públicas y privadas de nuestro municipio:

4, 3, 1, 4, 3, 3, 3, 1, 2, 4, 1, 4, 2, 3, 3, 1, 1, 1, 2, 1, 3, 3, 3, 3, 4, 3, 3, 2, 4, 1, 4, 3, 3, 3, 2, 3, 2, 1, 4, 3, 3, 2, 3, 2, 1, 4, 2, 2, 2, 3.

Realiza las siguientes gráficas con la información de tu tabla

Gráfica de barras (Frecuencia absoluta)

Gráfica de histograma o lineal (Frecuencia relativa)

Gráfica de pastel (Porcentajes)