



Nombre de Alumno: Citlally Alejandra Morales Rubio.

Nombre Del Docente: Mto. Sebastian Torrez.

Materia: matemáticas Abministrativas.

Actividad:2

Grado: 2do Cuatrimestre.

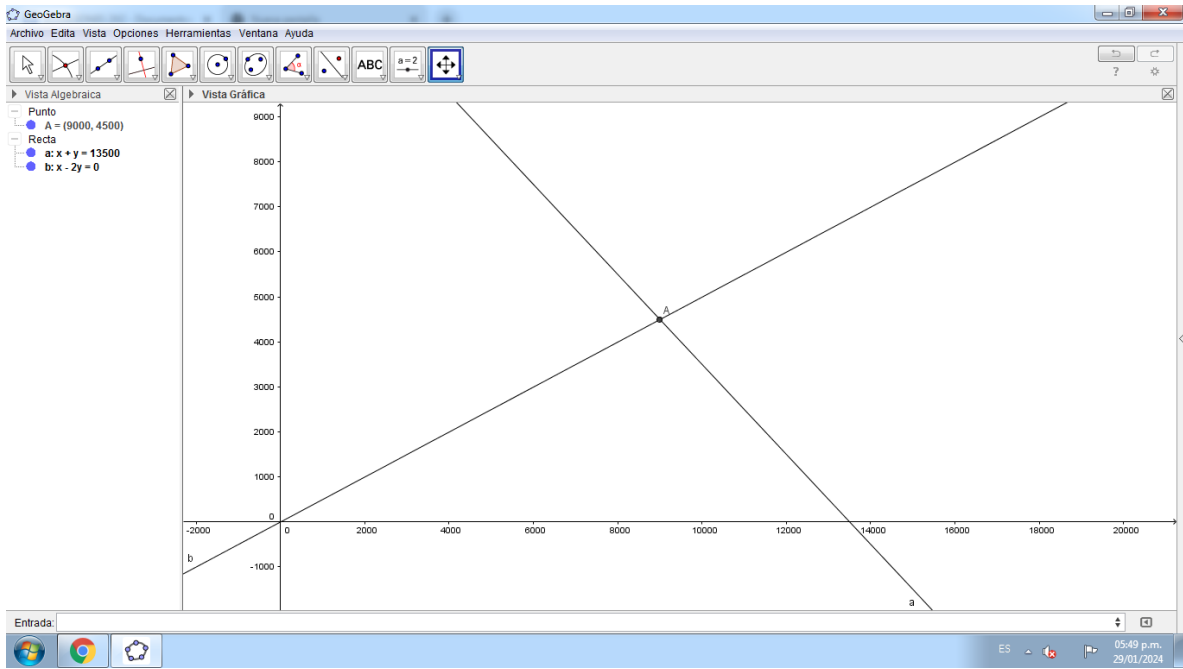
Grupo: LANEN

ECUACIONES 2X2

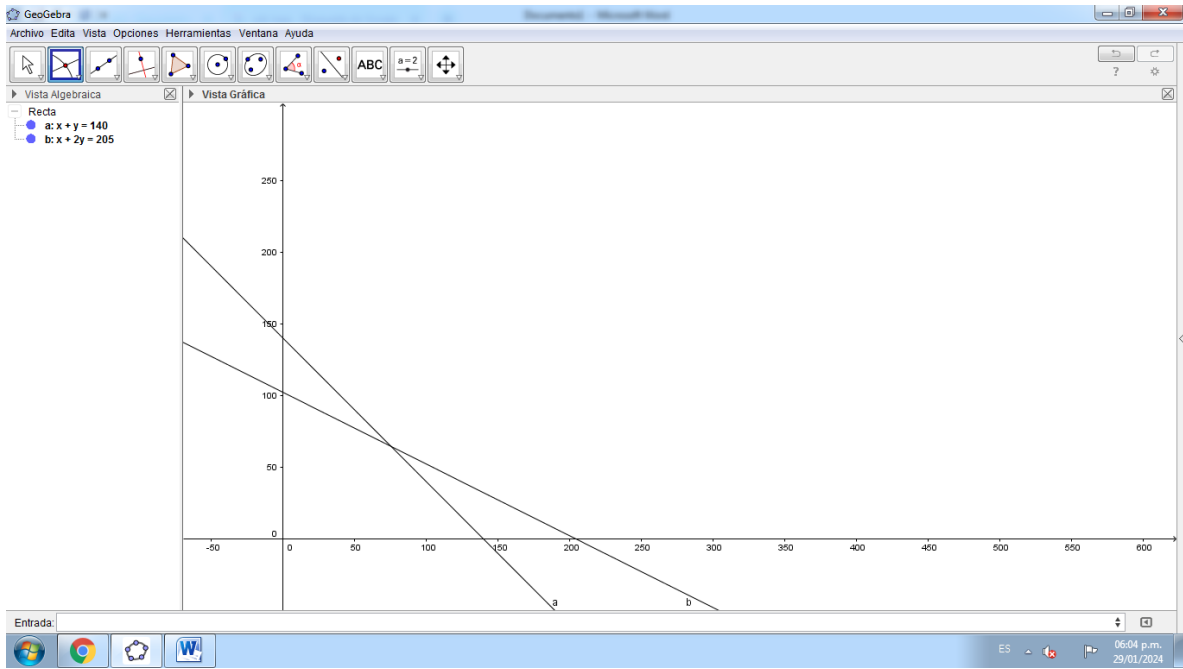
Instrucciones: Resuelve los siguientes problemas con el método que más te convenga

- 1- Entre Vanessa y José tienen \$13500, pero Vanessa tiene el doble de lo que tiene José ¿Cuál es la cantidad de dinero que tiene cada uno?
- 2- En una granja hay 140 animales, entre avestruces y vacas. Si en total se cuentan 410 patas, ¿cuántas avestruces y cuántas vacas son?
- 3- El costo de 2 pantalones y 3 camisas es de \$600, pero el costo de 3 pantalones y una camisa es de \$550 ¿Cuál es el costo de cada pantalón y de cada camisa?
- 4- María compró 5 tortas y 4 aguas pagando \$130, después compró 3 tortas y 2 aguas y pagó \$74, ¿Cuál es el precio de cada torta y de cada agua?

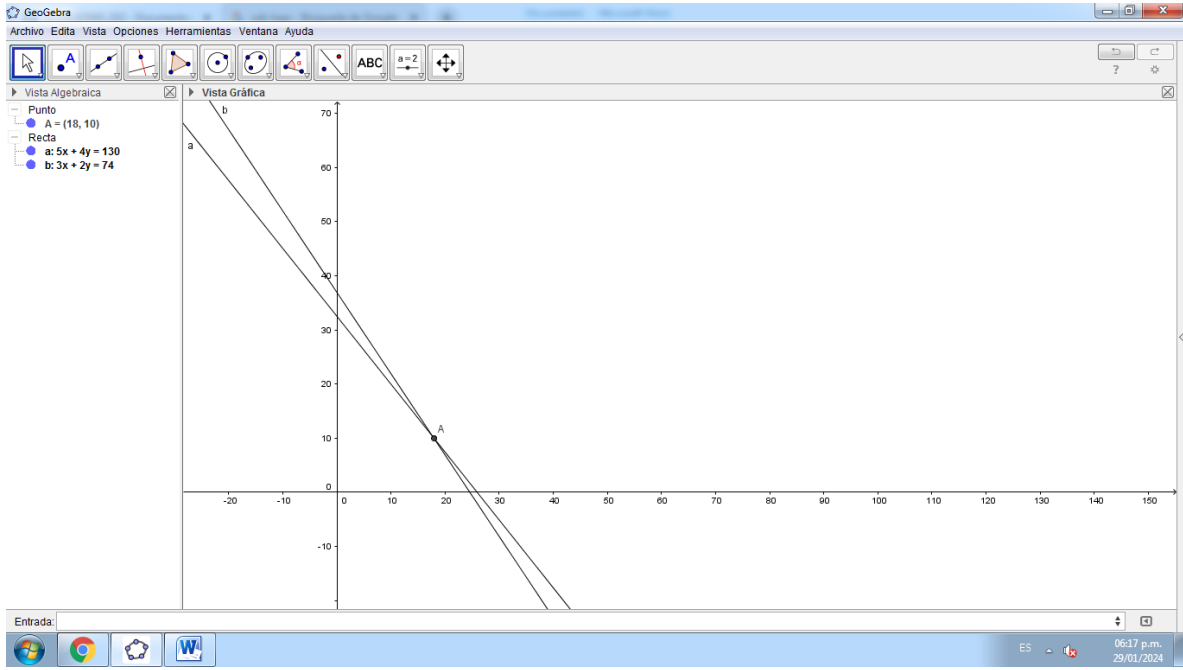
1



2



3



4

