

## Ejercicios graficas

Periodo	Registros
Enero	300
Febrero	150
Marzo	400
Abril	250
Mayo	300
Junio	200
Julio	180
Agosto	280

Con los datos proporcionados en la tabla realice la gráfica circular apoyándose del siguiente link

Para la gráfica circular debe entregarla con la tabla que marca el video

Realice con los mismos datos la gráfica de barras o histograma

<https://www.youtube.com/watch?v=J6rf4MxCiqQ>

la gráfica circular debe tener un diámetro de 6 cm

debe estar en hojas milimétricas

debidamente coloreada con simbología

debe anexar hoja con la tabla resuelta en porcentaje y grados

todas sus hojas deben llevar su nombre a lapicero

Con la misma tabla realice la gráfica histograma en hojas milimétricas

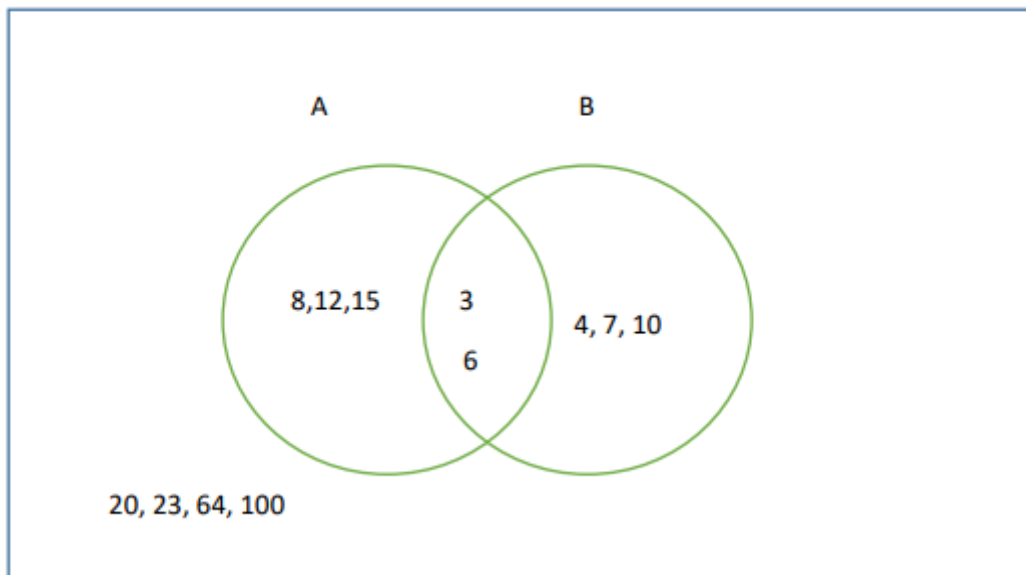
Debe enviarlo en formato PDF

Puede escanearlo o tomarle foto que salga lo más claro posible

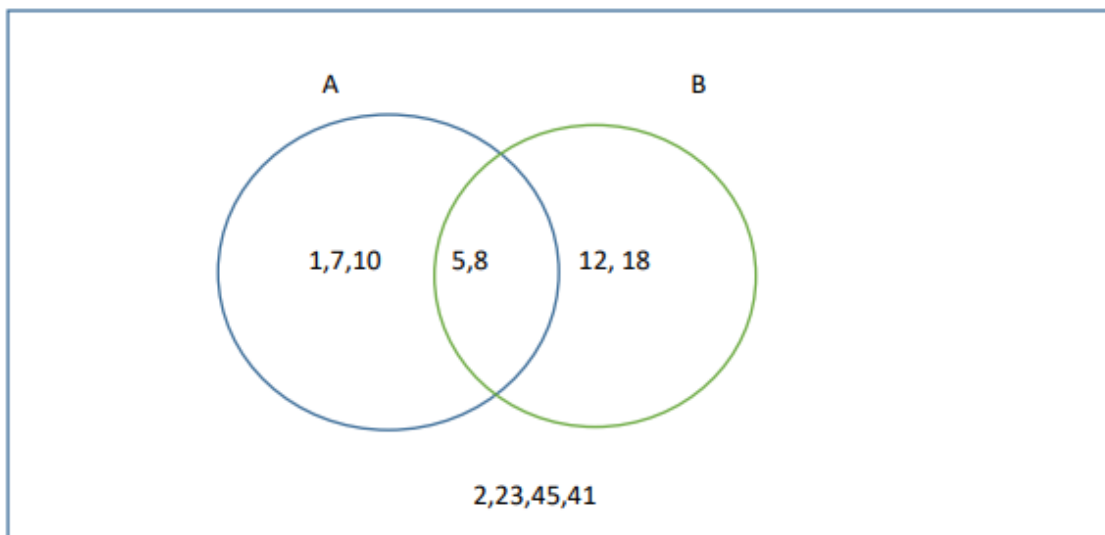
Cualquier dudo les dejo mi numero [9631006327](tel:9631006327)

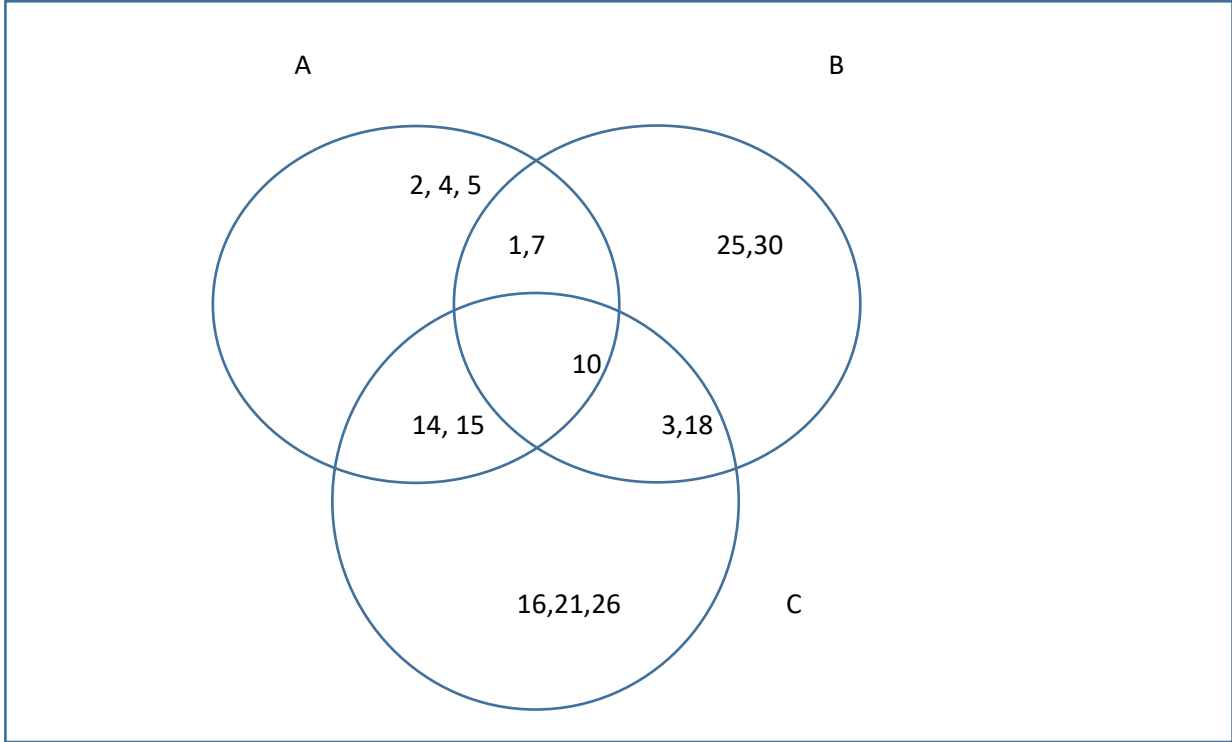
Ejercicios ventt

U



U





De los diagramas de ventt Encontrar

- universo
- conjuntos
- intersecciones
- restas
- complementos