

Tipo: Formato

Disposición: Interno

Emisión

Revisión

Emitido: Dirección Académica

Aprobado: Dirección General

05/08/2016

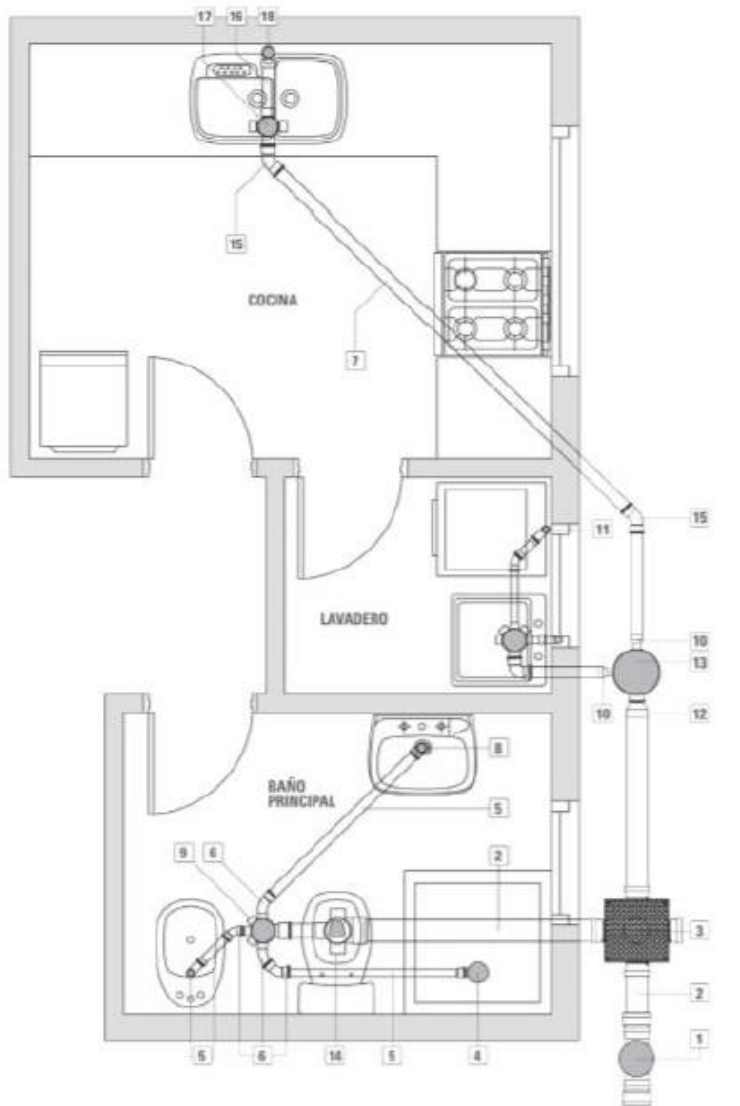
Nombre del alumno (a)

Sello de autorización

Profesor	YANETH MENDEZ LEON	Parcial	SEGUNDO	
Carrera	SEXTO CUATRIMESTRE	Fecha	13/JULIO/2021	
Materia	INSTALACIONES HIDROSANITARIAS Y ELECTRICAS	Grupo	ARQUITECTURA	
	Total de Preguntas:	5	Calificación :	

(2 PUNTOS).

I. Indicar las partes del siguiente plano Hidro-Sanitario.





**EXAMEN
SUBDIRECCION ACADEMICA**

SAC- FOR-19-2

Tipo: Formato

Disposición: Interno

Emisión

Revisión

Emitido: Dirección Académica

Aprobado: Dirección General

05/08/2016

1.-
2.-
3.-
4.-
5.-
6.-
7.-
8.-
9.-
10.-
11.-
12.-
13.-
14.-
15.-
16.-
17.-
18.-

PREGUNTAS ABIERTAS:

(1 PUNTO).

2.- Especifica la siguiente simbología Hidráulica:

← _____.

S.T.A.F. _____.

S.T.A.C. _____.

B.T.A.C. _____.







B.T.A.F. _____.

B.T.A.F.
HD. _____.

<p>UDS UNIVERSIDAD DEL SURESTE</p>	EXAMEN SUBDIRECCION ACADEMICA	SAC- FOR-19-2	
Tipo: Formato	Disposición: Interno	Emisión	Revisión
Emitido: Dirección Académica	Aprobado: Dirección General	05/08/2016	

(1 PUNTO).

3.- Especifica la siguiente simbología sanitaria:

-  _____.
-  _____.
-  _____.
- B.A.P. _____.
- B.A.N. _____.
- B.A.J. _____.
- T.VEN. _____.
-  _____.
-  _____.
-  _____.

(1 PUNTO).

- 4.- Menciona cuales son las especificaciones de una instalación Sanitaria.
- 5.- Menciona cuales son las especificaciones de una instalación Hidráulica.